

Pruebas de Acceso a Estudios de Grado- P.A.E.G.

Materia: **Geografía**

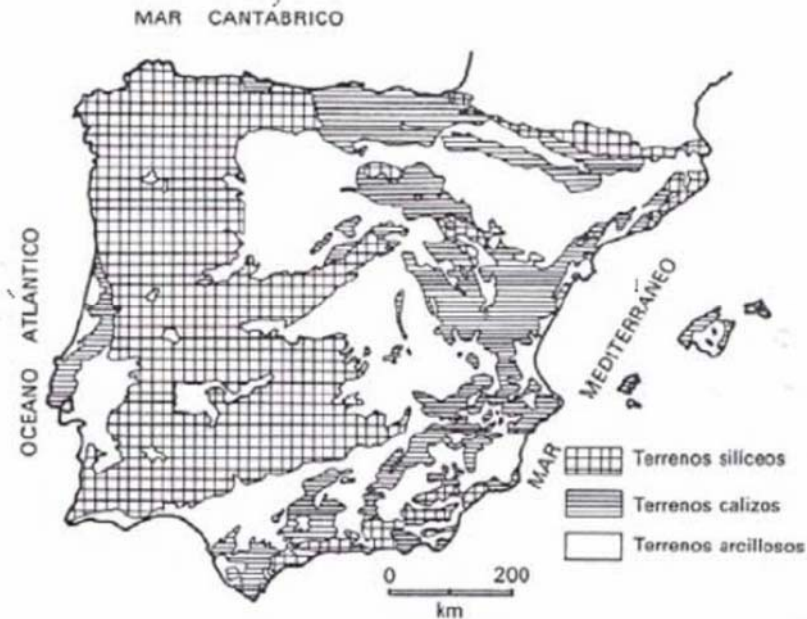
Este examen consta de dos opciones, opción A y B. El alumno deberá contestar **sólo a una de ellas**. Como criterio general de corrección para el conjunto de la prueba se valorará la presentación, la ortografía y la redacción.

OPCIÓN A:

I. PRÁCTICA (Puntuación: 3 puntos)

Analice el mapa que se adjunta, siguiendo estas cuestiones:

1. Cite las rocas más significativas de cada grupo de terrenos que aparece.
2. Indique la distribución de cada uno de los terrenos, especificando las unidades de relieve en las que aparecen.
3. Relacione los tipos de terreno representado en el mapa con la evolución geológica de la Península Ibérica.



II. TEMA (Puntuación: 3 puntos)

Desarrolle el siguiente tema:

- La red urbana española. Características y condicionantes de la red urbana. La jerarquía urbana. Las funciones urbanas. La sociedad, la cultura urbana y los problemas de las ciudades.

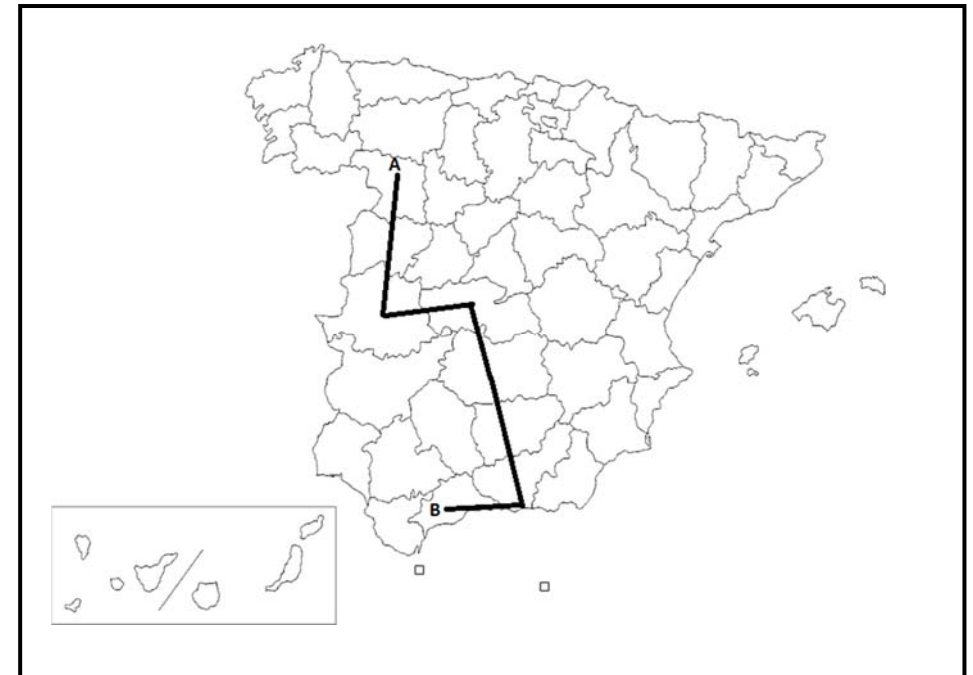
III. CONCEPTOS (Puntuación: 2 puntos)

Defina con la mayor precisión posible, y de forma breve, estos **cuatro** conceptos e indique, siempre y cuando sea posible, un ejemplo relativo a España o a Castilla-La Mancha:

- Paralelo; Energías renovables; Tasa de mortalidad; Estatuto de Autonomía.

IV. LOCALIZACIÓN (Puntuación: 2 puntos)

Cite las unidades del relieve, ríos y provincias que atraviesa la línea desde "A" hasta "B".



Pruebas de Acceso a Estudios de Grado- P.A.E.G.

Materia: **Geografía**

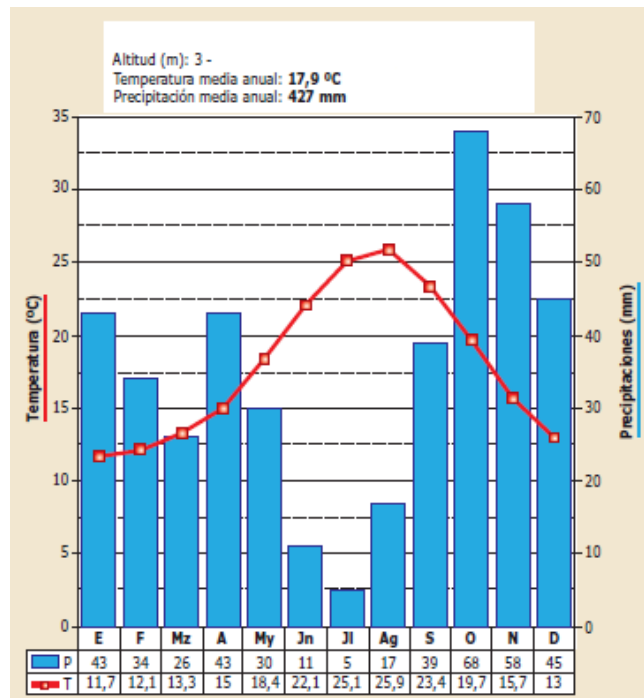
Este examen consta de dos opciones, opción A y B. El alumno deberá contestar **sólo a una de ellas**. Como criterio general de corrección para el conjunto de la prueba se valorará la presentación, la ortografía y la redacción

OPCIÓN B:

I. PRÁCTICA (Puntuación: 3 puntos)

Comente el siguiente climograma y conteste a las siguientes cuestiones:

- 1.- Evolución de las temperaturas y de las precipitaciones a lo largo del año.
- 2.- Tipo de clima al que pertenece. ¿A qué ciudad o zona cree que corresponde?
- 3.- Mencione qué situaciones de la dinámica general de la atmósfera pueden afectar a esta zona.



II. TEMA (Puntuación: 3 puntos)

Desarrolle el siguiente tema:

- Los espacios rurales. La diversidad de las actividades rurales: actividades agrícola, ganadera, agro-industrial, cinegética, turismo rural. Dinámica reciente del mundo rural.

III. CONCEPTOS (Puntuación: 2 puntos)

Defina con la mayor precisión posible, y de forma breve, estos **cuatro** conceptos e indique, siempre y cuando sea posible, un ejemplo relativo a España o a Castilla-La Mancha:

Modelado kárstico, Albufera, Padrón, Conurbación.

IV. LOCALIZACIÓN (Puntuación: 2 puntos)

Cite las unidades de relieve, ríos y provincias que atraviesa la línea desde "A" hasta "B".

